

**Данная игра
проводится по типу
телевизионной
передачи...**

СВОЯ

Игра

СВОЯ ИГРА

РАУНД I

Найди лишнее

10

20

30

Отгадай-ка

10

20

30

Шуточные задачи

10

20

30



СВОЯ ИГРА




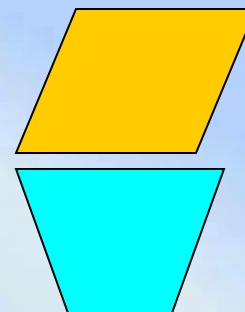
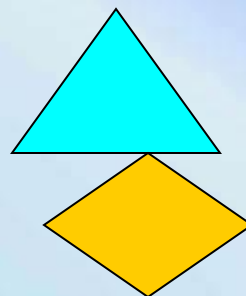

РАУНД 1



Найди лишнее

Внимание! Вопрос

Какая фигура лишняя?



РАУНД 1 *СВОЯ ИГРА*


20

Найди лишнее

Внимание! Вопрос

- Какая из данных величин лишняя?

4час; 3мин; 4мм; 4с



СВОЯ ИГРА

РАУНД 1



30

Найди лишнее

Внимание! Вопрос

Какое из данных слов лишнее?

Сложение, вычитание, умножение,
раздробление, деление



СВОЯ ИГРА

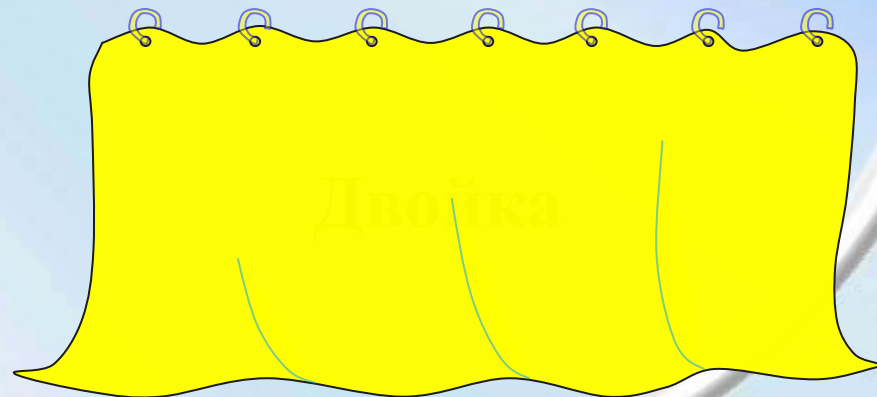


РАУНД 1

Отгадай-ка

Внимание! Вопрос

В школе есть такая птица:
Если сядет на страницу,
То с поникшей головой
Возвращаюсь я домой



СВОЯ ИГРА

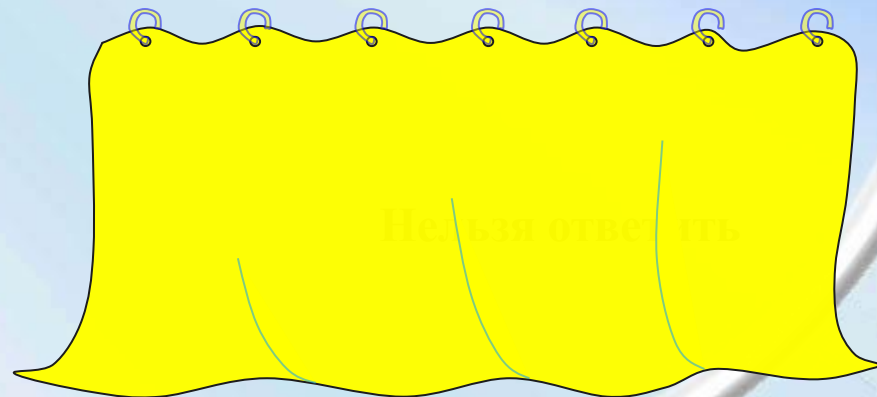
РАУНД 1

20

Отгадай-ка

Внимание! Вопрос

Мой приятель шел,
Пятак нашел.
Двое пойдём,
Сколько найдем?



СВОЯ ИГРА

30

РАУНД 1

Отгадай-ка

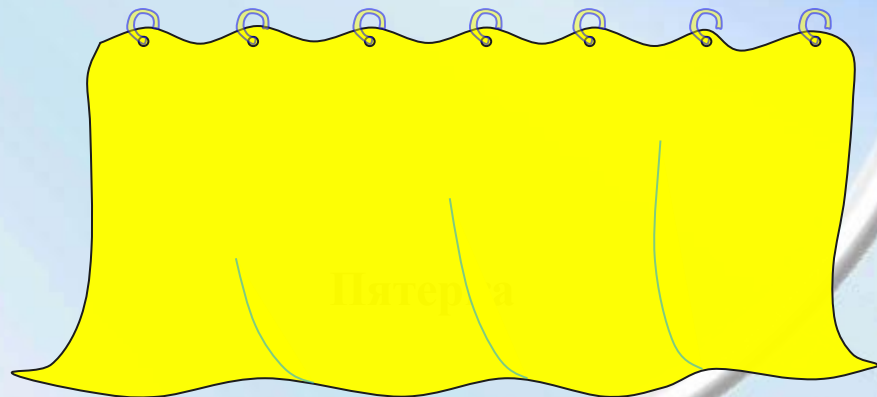
Внимание! Вопрос

Есть, друзья, такая птица:

Если сядет на страницу,

Очень рад бываю я ,

А со мною вся семья.



СВОЯ ИГРА


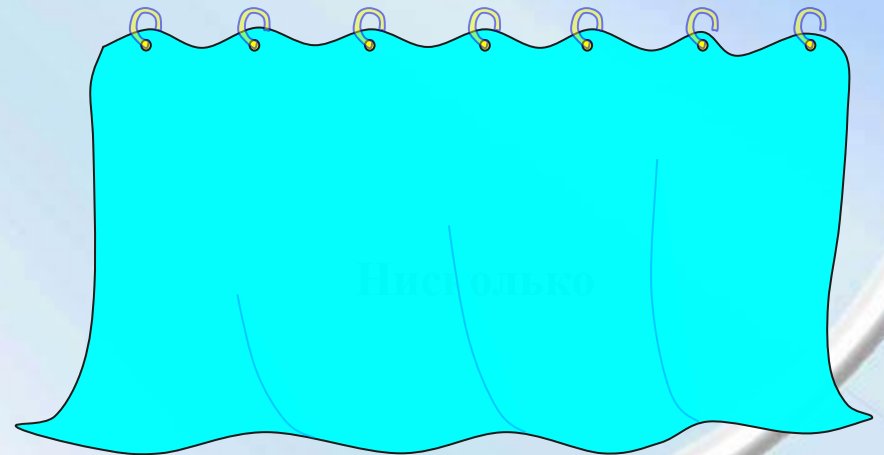


РАУНД 1

Шуточные задачи

Внимание! Вопрос

Двое шли – 3 конфеты нашли.
Следом четверо пойдут – сколько найдут?



СВОЯ ИГРА

20

РАУНД 1

Шуточные задачи

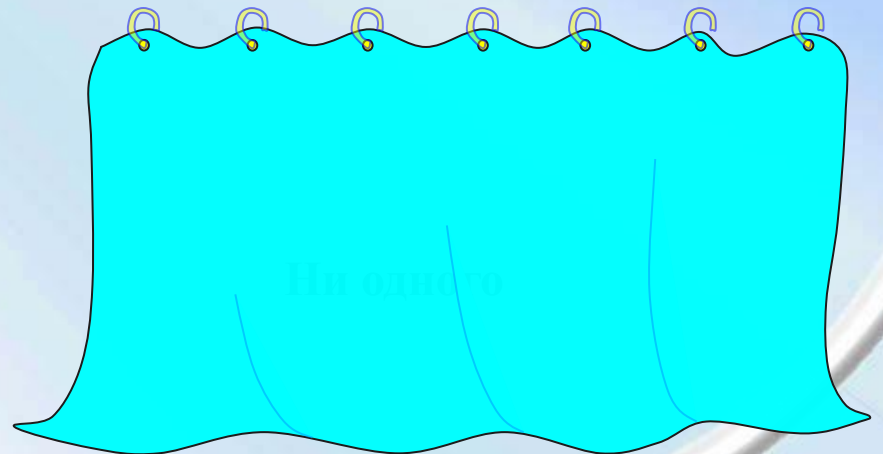
Внимание! Вопрос

На грядке сидит 6 воробьев.

К ним прилетели еще 5.

Кот схватил одного воробушка.

Сколько воробьев осталось на грядке?



СВОЯ ИГРА

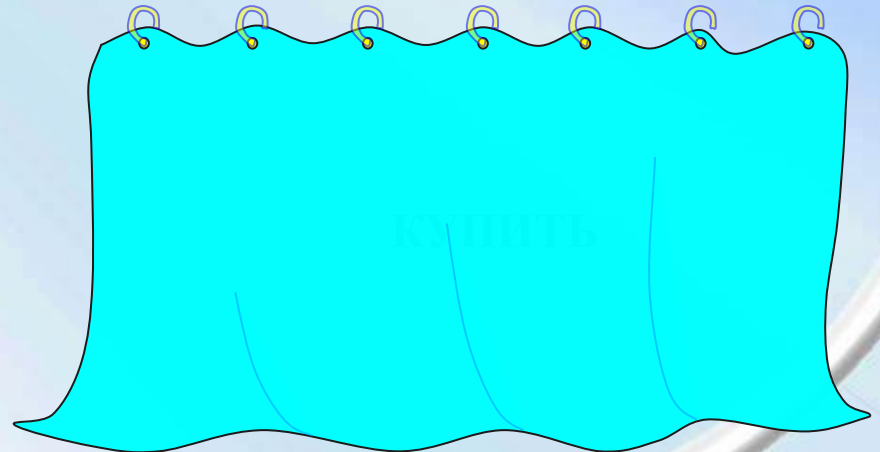
30

РАУНД 1

Шуточные задачи

Внимание! Вопрос

На грядке сидит 6 воробьев.
К ним прилетели еще 5.
Кот схватил одного воробушка.
Сколько воробьев осталось на
грядке?



СВОЯ ИГРА

РАУНД III

Экономика

20

40

60

Пословицы

20

40

60

Черный ящик

20

40

60



СВОЯ ИГРА



20

РАУНД 2

ЭКОНОМИКА

Внимание! Вопрос

Угадай, что так зовется,
Что за деньги продается,
Это не чудесный дар,
А просто на просто ...



СВОЯ ИГРА



40

РАУНД 2

ЭКОНОМИКА

Внимание! Вопрос

Тимофей носки связал
И на рынке их продал.
Дешевле, чем стоили нитки.
Получил одни ...



СВОЯ ИГРА




РАУНД 1

ЭКОНОМИКА

Внимание! Вопрос

Чтобы продукты потреблять,
В платьях ярких щеголять,
Чтобы вкусно есть и пить,
Надо все это...



СВОЯ ИГРА





РАУНД 2 *Пословицы*

Внимание! Вопрос

Вставь пропущенное слово, чтобы получилась известная пословица

... одного не ждут.



СВОЯ ИГРА





РАУНД 2 *Пословицы*

Внимание! Вопрос

Вставь пропущенное слово, чтобы получилась известная пословица

Обещанного ... года ждут.



СВОЯ ИГРА





РАУНД 2 *Пословицы*

Внимание! Вопрос

Вставь пропущенное слово, чтобы получилась известная пословица

*...раз отмерь, ... раз
отрежь.*



СВОЯ ИГРА



РАУНД 2

20

ЧЕРНЫЙ ЯЩИК

Внимание! Вопрос

Прибор для измерения градусной меры углов



СВОЯ ИГРА

РАУНД 2

40

ЧЕРНЫЙ ЯЩИК



Внимание! Вопрос

Кулек невелик

Целой сотне велит:

То сядь да учись

То встань, разойдись!





РАУНД 2

СВОЯ ИГРА ЧЕРНЫЙ ЯЩИК

60

Внимание! Вопрос

*В черном ящике находится
четыреугольник, у которого
все стороны равны и все углы
прямые. Что это?*



СВОЯ ИГРА

РАУНД III

Загадки с хитринкой

80

100

120

Анаграммы

80

100

120

Вы мне верите
иль нет?

80

100

120



СВОЯ ИГРА


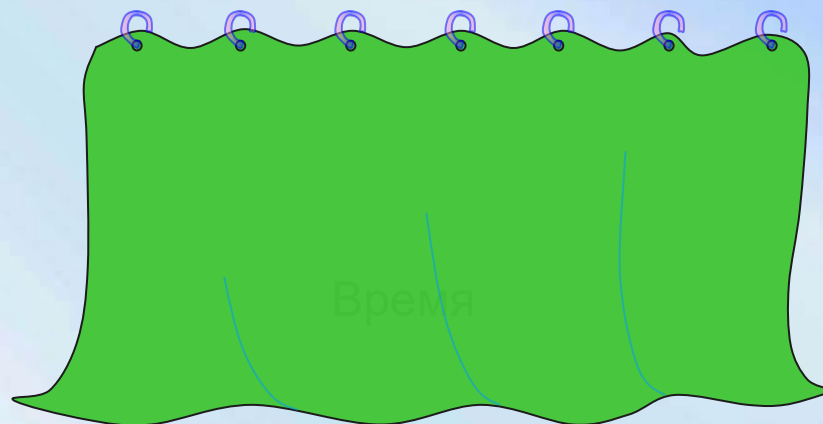
80

РАУНД 3

Загадки с хитринкой

Внимание! Вопрос

Что идет, не двигаясь с места?



СВОЯ ИГРА

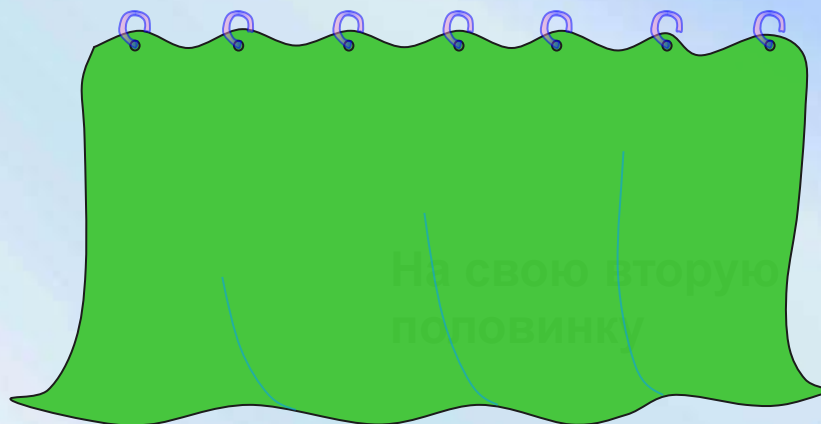
100

РАУНД 3

Загадки с хитринкой

Внимание! Вопрос

На что похожа половинка яблока?



СВОЯ ИГРА

120



РАУНД 3

Загадки с хитринкой

Внимание! Вопрос

Ворона летит, а собака на хвосте сидит. Может ли такое быть?

Да, т.к. собака может сидеть на хвосте



СВОЯ ИГРА





РАУНД 3

Анаграммы

Внимание! Вопрос

МУМСА



СВОЯ ИГРА



100

РАУНД 3

Анаграммы

Внимание! Вопрос

РИГУФА



СВОЯ ИГРА



РАУНД 3

120

Анаграммы

Внимание! Вопрос

МГАРМ



СВОЯ ИГРА




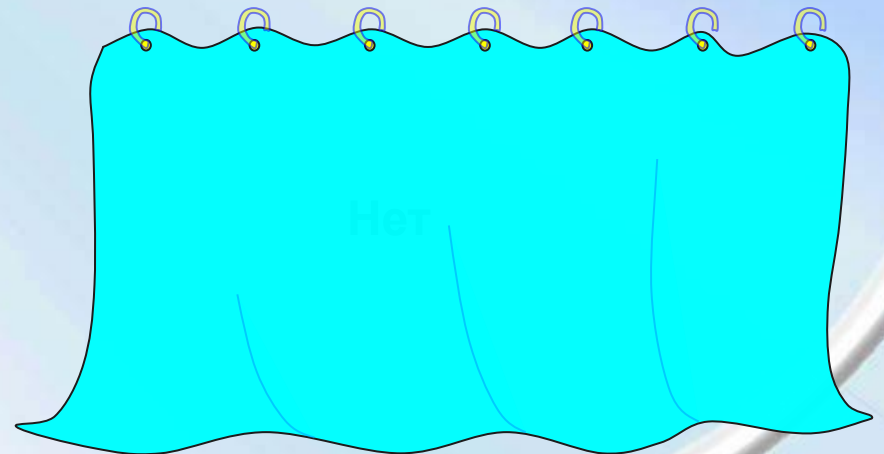


РАУНД 3

Вы мне верите иль нет?

Внимание! Вопрос

Один килограмм железа тяжелее одного килограмма бумаги?



СВОЯ ИГРА




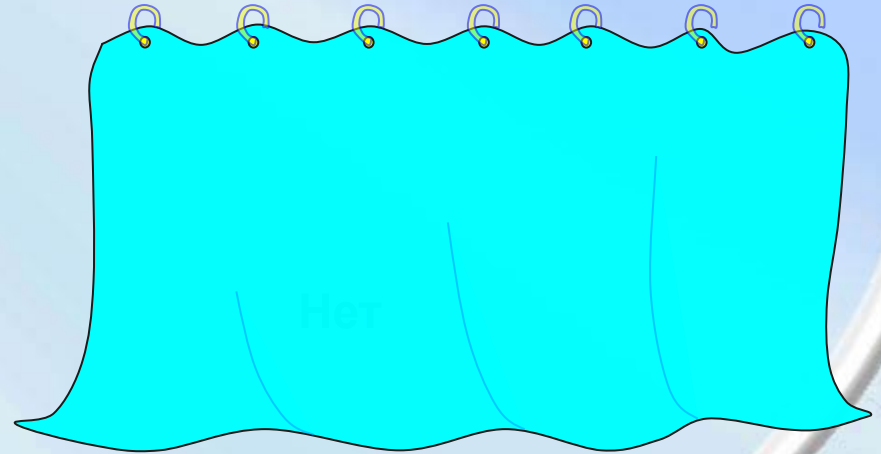
100

РАУНД 3

Вы мне верите иль нет?

Внимание! Вопрос

Гусь весит на двух лапах 6кг. А на одной –
3кг.



СВОЯ ИГРА


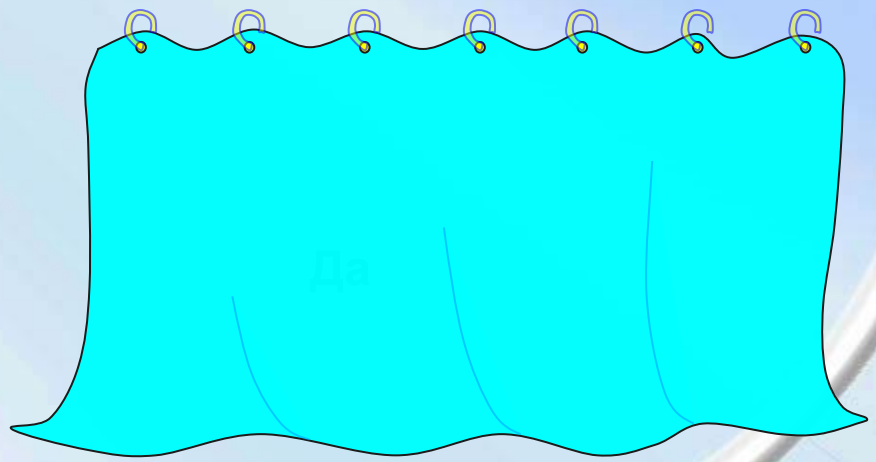
120

РАУНД 3

Вы мне верите иль нет?

Внимание! Вопрос

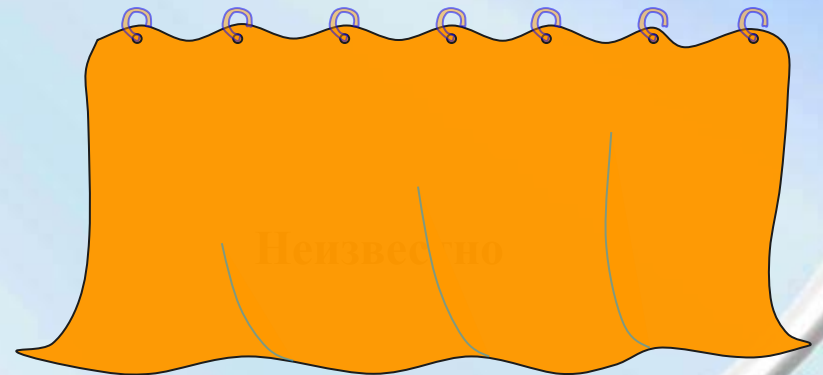
6 умножить на 3 будет 18



СВОЯ ИГРА

ФИНАЛ

Шли три гусенка. Один – впереди двух, один – между двумя, а один – позади двух. Как шли поросята?



Спасибо Вам за участие в игре!

Надеюсь, что Вам понравилось!

